


DIE STEINZEIT



Die Steinzeit

Die Steinzeit ist der älteste Abschnitt in der Geschichte der Menschheit. Sie begann vor ungefähr 2,6 Millionen Jahren und endete erst vor etwa 4200 Jahren. Da die Menschen viele Alltagsgegenstände aus Steinen herstellten (z. B. Waffen und Werkzeuge), wird die Epoche als „Steinzeit“ bezeichnet. Die Menschen, die in dieser Zeit lebten, waren äußerst geschickt und erfinderisch: Sie machten Feuer, jagten, bewirteten eigene Tiere und fertigten sogar eigene Kunstwerke an - Grund genug, um über diesen spannenden Zeitabschnitt mehr zu erfahren.

Die Zeitabschnitte der Steinzeit

Da die Steinzeit eine sehr lange Zeitspanne umfasst, teilt man die Epoche zur besseren Übersicht in drei große Abschnitte ein:

- **Altsteinzeit** (2,6 Mio bis 9000 v. Chr.)
- **Mittelsteinzeit** (9500 bis 5000 v. Chr.)
- **Jungsteinzeit** (5000 bis 2200 v. Chr.)

Während der Altsteinzeit (Paläolithikum) waren die Menschen noch Jäger und Sammler. Da sie keinen festen Wohnsitz hatten, zogen sie umher und lebten in Horden zusammen. Immer wiederkehrende Eiszeiten stellten die Menschen vor große Herausforderungen, wenn es um das Überleben ging.

Ein wichtiges Merkmal der Mittelsteinzeit (Mesolithikum) ist, dass es immer wärmer wurde. Das Eis ging zurück und Wälder begannen zu wachsen. Den Steinzeitmenschen gelang es, immer bessere Werkzeuge und Waffen herzustellen (z. B. Harpunen). Dadurch konnten sie ihre Jagdtechniken verbessern.

Die Jungsteinzeit (Neolithikum) brachte viele Neuerungen mit sich. Die Menschen ließen sich an einem Ort fest nieder. Sie bauten Häuser, bildeten Dorfgemeinschaften, hielten eigenes Vieh und lebten als Feldbauern. Als Jäger und Sammler zogen sie nicht mehr umher, da sie sich von nun an selbst versorgen konnten.

was früher war?

Die Steinzeit war noch keine Schrift gab, ist über diese Zeit wenig bekannt. Es gibt keine Aufschriebe aus dieser Zeit, die die Geschichte der Steinzeitmenschen erforschen. Wir wissen über diese Zeit wissen, haben wir der Arbeit der Archäologen zu verdanken.

Die Wissenschaftler, die im 19. Jahrhundert die Überreste des menschlichen Lebens (z. B. Knochen oder Steinsplinter), stellen sie auf, wie unsere Vorfahren. Sie können herausfinden, was diese Gegenstände sind. Eine wichtige Aufgabe besteht auch darin, dass die Funde erhalten bleiben und restauriert werden. Gemeint ist, dass die einzelnen Teile von Funden repariert werden. Nach getaner Arbeit kann man sie in Museen begutachten. Einige Überreste, die gefunden wurden, sind hier abgebildet:

Aufgaben

1. Erkläre, wie die Steinzeit zu ihrem Namen kam.

2. Im Text findest du Informationen zu den einzelnen Abschnitten der Steinzeit. Fülle die Tabelle aus und male jeweils ein passendes Bild dazu.

Altsteinzeit	Mittelsteinzeit	Jungsteinzeit
2,6 Mio bis 9000 v. Chr.		
<ul style="list-style-type: none">• Die Menschen lebten als Jäger und Sammler.• Sie zogen umher und hatten keinen festen Wohnsitz.• Wiederkehrende Eiszeiten bereiteten den Menschen Probleme.		


Die Arbeit von Archäologen ist sehr wichtig ist.

Aufgaben, die Archäologen bei ihrer Arbeit erfüllen.

Wähle zehn Funde aus der Steinzeit.

H	A	Q	O	K	N	B	G	K	I	U	E	F
E	U	G	E	S	A	Z	J	N	N	M	K	A
F	V	E	I	J	E	I	V	O	N	E	J	U
L	K	O	L	Z	J	U	F	C	G	W	V	S
U	C	K	H	U	B	G	N	H	G	V	V	T
N	W	T	M	N	G	T	D	E	C	G	G	K
U	M	N	N	M	L	B	K	N	V	T	O	E
H	I	Z	K	M	N	L	U	I	T	R	E	I
P	E	E	R	N	M	N	W	V	B	N	B	L
W	S	G	Y	B	N	G	H	J	K	L	I	
U	B	D	I	P	K	H	O	L	Z	E	R	N
Z	E	G	I	K	O	I	U	B	L	N	J	C
B	I	O	M	T	T	I	Z	K	U	N	M	U
J	L	W	M	B	B	H	W	N	L	O	T	B
U	I	M	N	O	Z	T	O	N	T	O	P	F

Die Steinzeit



Die Steinzeit ist der älteste Abschnitt in der Geschichte der Menschheit. Sie begann vor ungefähr 2,6 Millionen Jahren und endete erst vor etwa 4200 Jahren. Da Forscher viele Alltagsgegenstände gefunden haben, die aus Steinen hergestellt wurden (z. B. Waffen und Werkzeuge), wird die Epoche als „Steinzeit“ bezeichnet. Die Menschen, die in dieser Zeit lebten, waren äußerst geschickt und erfinderisch: Sie machten Feuer, jagten, bewirteten eigene Tiere und fertigten sogar eigene Kunstwerke an - Grund genug, um über diesen spannenden Zeitabschnitt mehr zu erfahren.

Die Zeitabschnitte der Steinzeit

Da die Steinzeit eine sehr lange Zeitspanne umfasst, teilt man die Epoche zur besseren Übersicht in drei große Abschnitte ein:

- Altsteinzeit (2,5 Mio bis 10 000 v. Chr.)
- Mittelsteinzeit (10 000 bis 5000 v. Chr.)
- Jungsteinzeit (5000 bis 2200 v. Chr.)

Während der Altsteinzeit (Paläolithikum) waren die Menschen noch Jäger und Sammler. Da sie keinen festen Wohnsitz hatten, zogen sie umher und lebten in Horden zusammen. Immer wiederkehrende Eiszeiten stellten die Menschen vor große Herausforderungen, wenn es um das Überleben ging.

Ein wichtiges Merkmal der Mittelsteinzeit (Mesolithikum) ist, dass es immer wärmer wurde. Das Eis ging zurück und Wälder begannen zu wachsen. Den Steinzeitmenschen gelang es, immer bessere Werkzeuge und Waffen herzustellen (z. B. Harpunen). Dadurch konnten sie ihre Jagdtechniken verbessern.


Die Jungsteinzeit (Neolithikum) brachte viele Neuerungen mit sich. Die Menschen ließen sich an einem Ort fest nieder. Sie bauten Häuser, bildeten Dorfgemeinschaften, hielten eigenes Vieh und lebten als Feldbauern. Als Jäger und Sammler zogen sie nicht mehr umher, da sie sich von nun an selbst versorgen konnten.



Woher wissen wir, was früher war?

Da es während der Steinzeit noch keine Schrift gab, ist über diese Epoche recht wenig bekannt. Es gibt keine Aufschriebe aus dieser Zeit, mit denen wir die Geschichte der Steinzeitmenschen erforschen können. Alles, was wir über diese Zeit wissen, haben wir der Arbeit von Archäologen zu verdanken.

Archäologen sind Wissenschaftler, die im Boden nach den Überresten des menschlichen Lebens suchen. Mithilfe von Funden (z. B. Knochen, Werkzeuge oder Steinsplitter), stellen sie Vermutungen auf, wie unsere Vorfahren wohl gelebt haben. Sie können herausfinden, wie alt die gefundenen Gegenstände sind. Eine ihrer Aufgaben besteht darin, sicherzustellen, dass die Funde erhalten bleiben und restauriert werden. Damit ist gemeint, dass die einzelnen Teile von Funden zusammengesetzt und repariert werden. Nach getaner Arbeit kann man viele ihrer Werke in Museen begutachten. Einige Überreste, die im Laufe der Zeit gefunden wurden, sind hier abgebildet:



Das Ende der Steinzeit

Das Ende der Steinzeit war gekommen, als die Menschen Bronze entdeckten. Werkzeuge aus Metall lösten die Steinwerkzeuge ab. In Europa begann die Bronzezeit vor ungefähr 4000 Jahren.

Aufgaben

1. Erkläre, wie die Steinzeit zu ihrem Namen kam.

2. Im Text findest du Informationen zu den einzelnen Abschnitten der Steinzeit. Fülle die Tabelle aus und male jeweils ein passendes Bild dazu.

Altsteinzeit	Mittelsteinzeit	Jungsteinzeit
2,5 Mio bis 10000 v. Chr.		
<ul style="list-style-type: none">• Die Menschen lebten als Jäger und Sammler.• Sie zogen umher und hatten keinen festen Wohnsitz.• Wiederkehrende Eiszeiten bereiteten den Menschen Probleme.		
		

3. Erkläre, warum die Arbeit von Archäologen sehr wichtig ist.

4. Nenne einige Aufgaben, die Archäologen bei ihrer Arbeit erfüllen.



5. Finde und markiere zehn Funde aus der Steinzeit.




U	J	G	E	R	H	A	Q	O	K	N	B	G	K	I	U	E	F
W	E	R	K	Z	E	U	G	E	S	A	Z	J	N	N	M	K	A
O	U	G	S	D	F	V	E	I	J	E	I	V	O	N	E	J	U
H	I	G	B	K	L	K	Ö	L	Z	J	U	F	C	G	W	V	S
J	S	C	H	M	U	C	K	H	U	B	G	N	H	G	V	V	T
G	K	B	C	F	N	W	T	M	N	G	T	D	E	C	G	G	K
O	E	M	L	K	U	M	N	N	M	L	B	K	N	V	T	O	E
R	L	Y	B	A	H	I	Z	K	M	N	L	U	I	T	R	E	I
B	E	K	L	S	P	E	E	R	N	M	N	W	V	B	N	B	L
M	T	T	M	N	W	S	G	Y	B	N	G	H	J	J	K	L	I
Z	T	R	E	G	U	B	D	I	P	K	H	Ö	L	Z	E	R	N
E	M	T	K	Ö	Z	E	G	I	K	O	I	U	B	L	N	J	C
I	G	J	N	M	B	I	O	M	T	T	I	Z	K	U	N	M	U
V	P	H	K	J	J	L	W	M	B	B	H	W	N	L	O	T	B
D	O	L	C	H	U	I	M	N	O	Z	T	O	N	T	O	P	F

Lösungen

1. Erkläre, wie die Steinzeit zu ihrem Namen kam.

Da Forscher viele Alltagsgegenstände gefunden haben, die aus Steinen hergestellt wurden (z. B. Waffen und Werkzeuge), wird die Epoche als „Steinzeit“ bezeichnet.

2. Im Text findest du Informationen zu den einzelnen Abschnitten der Steinzeit. Fülle die Tabelle aus und male jeweils ein passendes Bild dazu.

Altsteinzeit	Mittelsteinzeit	Jungsteinzeit
2,5 Mio bis 10000 v. Chr.	10000 bis 5000 v. Chr.	5000 bis 2200 v. Chr.
<ul style="list-style-type: none">Die Menschen lebten als Jäger und Sammler.Sie zogen umher und hatten keinen festen Wohnsitz.Wiederkehrende Eiszeiten bereiteten den Menschen Probleme.	<ul style="list-style-type: none">Das Eis ging zurück. Wälder begannen zu wachsen.Bessere Waffen und Werkzeuge wurden hergestellt.Die Menschen verbesserten ihre Jagdtechniken.	<ul style="list-style-type: none">Die Menschen ließen sich an einem Ort nieder.Sie bauten Häuser und bildeten Dorfgemeinschaften.Sie hielten eigenes Vieh und lebten als Bauern.
		

3. Erkläre, warum die Arbeit von Archäologen sehr wichtig ist.

Es gibt keine Aufschriebe aus dieser Zeit, mit denen wir die Geschichte erforschen können. Alles, was wir über diesen Zeitraum wissen, haben wir der Arbeit von Archäologen zu verdanken.

4. Nenne einige Aufgaben, die Archäologen bei ihrer Arbeit erfüllen.

Archäologen...

- ...suchen im Boden nach den Überresten des menschlichen Lebens.
- ...stellen mithilfe von Funden Vermutungen auf, wie unsere Vorfahren wohl gelebt haben.
- ...versuchen herauszufinden, wie alt die gefundenen Gegenstände sind.
- ...stellen sicher, dass die Funde erhalten bleiben und restauriert werden.



5. Finde und markiere zehn Funde aus der Steinzeit.

U	J	G	E	R	H	A	Q	O	K	N	B	G	K	I	U	E	F
W	E	R	K	Z	E	U	G	E	S	A	Z	J	N	N	M	K	A
O	U	G	S	D	F	V	E	I	J	E	I	V	O	N	E	J	U
H	I	G	B	K	L	K	Ö	L	Z	J	U	F	C	G	W	V	S
J	S	C	H	M	U	C	K	H	U	B	G	N	H	G	V	V	T
G	K	B	C	F	N	W	T	M	N	G	T	D	E	C	G	G	K
O	E	M	L	K	U	M	N	N	M	L	B	K	N	V	T	O	E
R	L	Y	B	A	H	I	Z	K	M	N	L	U	I	T	R	E	I
B	E	K	L	S	P	E	E	R	N	M	N	W	V	B	N	B	L
M	T	T	M	N	W	S	G	Y	B	N	G	H	J	J	K	L	I
Z	T	R	E	G	U	B	D	I	P	K	H	Ö	L	Z	E	R	N
E	M	T	K	Ö	Z	E	G	I	K	O	I	U	B	L	N	J	C
I	G	J	N	M	B	I	O	M	T	T	I	Z	K	U	N	M	U
V	P	H	K	J	J	L	W	M	B	B	H	W	N	L	O	T	B
D	O	L	C	H	U	I	M	N	O	Z	T	O	N	T	O	P	F